



數學科

考試常見題型 模擬試卷

2 年級下學期測驗

MOCK AT HOME

姓名：_____ () 成績：_____ /100

日期：_____ 時間：45 分鐘

評估重點

- 四位數
- 香港紙幣
- 貨幣的應用
- 加法和減法
- 米和厘米
- 二年級上學期部份內容

部分	題型	分數
一	短答題	/12
二	選擇題	/12
三	簡答題	/16
四	簡答題	/12
五	簡答題	/8
六	簡答題	/4
七	計算題	/12
八	長答題	/24

(一) 简答题：回答下面問題。(12% @ 2%)

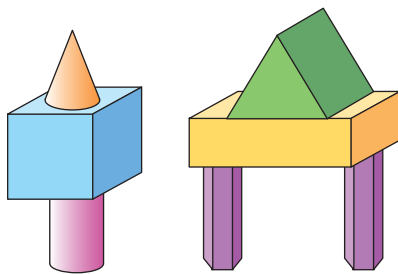
1. 8500, 8000, 7500, 7000, 下一個數是多少? 1. _____

2. 2B 班同學收集空膠瓶，上月收集得 133 個，
本月收集得 86 個，兩個月共收集得空膠瓶多
少個? 2. _____ 個


3. 餅店準備了杏仁餅 500 盒，賣剩 274 盒，即賣
出了多少盒? 3. _____ 盒

4. 在 2603 這個數裏，百位數字表示的數值與個
位數字表示的數值相差多少? 4. _____

5. 下圖中有角柱多少個? 5. _____ 個



6. 如果小狐狸在希希的北方，那麼，小企鵝在希
希的哪一方? 6. _____ 方



Please do not write in the margin. 請勿在此書寫。

Please do not write in the margin. 請勿在此書寫。

(二) 選擇題：把正確答案的圓圈塗黑和塗滿。(12% @ 2%)

1. 今天到主題公園的遊客有 9386 人。下列哪一個數最接近今天的入場人數？

- A. 9000 B. 9300 C. 9400 D. 9800

2.



買以上兩件衣物，最少要付紙幣多少張而不用找續？

- A. 3 B. 4 C. 5 D. 6

3. 把三個四位數由大至小排列如下：

8452, , 8254

下列哪一個可能是空格裏的數？

- A. 8540 B. 8435 C. 8235 D. 8204

4. 在 1696 這個數裏，兩個「6」表示的數值共是多少？

- A. 12 B. 66 C. 606 D. 6060

5. 一個籃球架的高度約是

- A. 3 cm B. 30 cm C. 3 m D. 30 m

6. 媽媽付了六張面值不同的紙幣，剛好足夠買一個手袋，這個手袋售多少元？

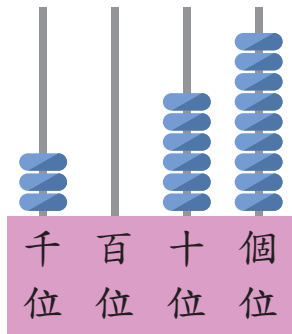
- A. \$1550 B. \$1650 C. \$1670 D. \$1680

Please do not write in the margin. 請勿在此書寫。

Please do not write in the margin. 請勿在此書寫。

(三) 簡答題：依指示填填看。(全對才給分) (16% @ 2%)

1.



(a) 用中國數字寫出左圖算柱所表示的數。

答案：_____

(b) 這個數的千位數字是 _____，
它表示的數值是 _____。

2. 在 5082 這個數裏，

(a) 數字「8」在 _____ 位，它表示的數值是 _____。

(b) _____ 位數字是 _____，它表示的數值最小。

3. 寫出代表答案的英文字母。

P. 六千零一 Q. 6021 R. 六千一百 S. 6201

(a) 以上四個數中，最小的雙數是 _____。

(b) 以上四個數中，最大的單數是 _____。

4. 從以下的數卡中選出四張，排出指定的四位數。



(a) 最小的四位單數是 _____。

(b) 用中國數字寫出最大的四位雙數。

答案：_____

Please do not write in the margin. 請勿在此書寫。

Please do not write in the margin. 請勿在此書寫。

(四) 簡答題：依指示填填看。(全對才給分) (12% @ 2%)

1. (a) 每對手套的售價是

_____ 元 _____ 角。



手套
\$159.90

(b) 妹妹有：



她尚欠 _____ 元 _____ 角，才能購買手套一對。

2. 服裝店舉行大減價，外套的售價是三百八十八元五角。




(a) 用阿拉伯數字在標價牌上寫上售價。





(b) 爸爸付 1 張 500 元紙幣買這件外套，
應找回幾元幾角？把適當的貨幣圈起來。



3. 完成以下的貨幣找換。

(a) 8 個  和 4 個  可換得 _____ 張 。

(b) 2 張  可換得 _____ 個 。

Please do not write in the margin. 請勿在此書寫。

Please do not write in the margin. 請勿在此書寫。

(五) 簡答題：回答下面問題。(8% @ 2%)

1. 完成以下的長度單位轉換。

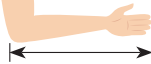
(a) 2 米 10 厘米 = _____ 厘米

(b) 10 米 = _____ 厘米

(c) 300 cm = _____ m

(d) 1408 cm = _____ m _____ cm

(六) 簡答題：回答下面問題。(4% @ 2%)

進進用  量度課室裏各項設施的長度。根據下表的量度結果，回答問題。

設施	書櫃	告示板	電腦桌
手肘數量	5個	4個	3個

1. 進進手肘的長度是 30 cm，電腦桌的長度約是 _____ cm。

2. 告示板比 1 米長約 _____ cm。

(七) 計算題：計算以下各題。(12% @ 2%)

1. $83 + 338 =$ _____

2. $157 + 29 +$ _____ $= 485$

3. $745 -$ _____ $= 548$

4. $300 - 109 - 11 =$ _____

5. $79 + 62 - 9 =$ _____

6. $479 - 563 + 84 =$ _____

(八) 長答題：列式解答問題。(24% @ 4%)

1. 公園裏設有兩條緩跑徑，第一條較長，長度是 446 米，與第二條相差 49 米。進進連續跑完這兩條緩跑徑，共跑了多少米？

2. 有 152 人參加離島一天遊，其中長者有 76 人，成人有 38 人，其餘的是兒童。離島一天遊的參加者中，兒童有多少人？

3. 姐姐用了貝殼 210 個做了一幅拼貼畫，而妹妹做拼貼畫用了貝殼 185 個。姐姐用的貝殼比妹妹用的多幾個？

Please do not write in the margin. 請勿在此書寫。

Please do not write in the margin. 請勿在此書寫。

Please do not write in the margin. 請勿在此書寫。

4. 老師準備了 A、B 兩款襟章，A 款有 74 個，比 B 款少 10 個。老師給 95 名學生每人一個襟章後，還餘襟章多少個？

5. 昨天有 316 人到圖書館去，比今天多 126 人。這兩天裏，共有多少人前往圖書館？

6. 玩具店原有拼圖 247 盒，賣出 193 盒後，再送來 78 盒。現在，玩具店有拼圖多少盒？

Please do not write in the margin. 請勿在此書寫。

—全卷完—